



نمونه سوالات
آزمون هوش تصویری / فضایی

Spatial reasoning test
Sample Questions

🌀 سطح آزمون: متوسط

آزمون هوش تصویری/فضایی

Spatial Reasoning Test

این آزمون مهارت و توانایی شما در تجزیه و تحلیل اشیاء و فضای دو بعدی و سه بعدی ارزیابی می کند. هم چنین برای مشاغل مرتبط با STEM (علوم، فناوری، مهندسی و ریاضی) مناسب است.

لطفا پیش از شروع آزمون به نکات زیر با دقت، توجه کنید:

- این آزمون از 16 سوال تخصصی تشکیل شده است و نمره منفی ندارد.
- زمان آزمون 15 دقیقه می باشد و قابل تمدید نیست.
- این آزمون به زبان فارسی طراحی شده است.
- در بعضی از سوالات شاید همه گزینه ها صحیح باشند ولی شما باید گزینه ای که از بقیه موارد، جامع تر و دقیق تر می باشد را انتخاب کنید.

1. شکل زیر را در نظر بگیرید. کدام یک از تصاویر A تا D ، این شکل را از یک زاویه متفاوت نشان می دهد؟



- A
- B
- C
- D



A



B



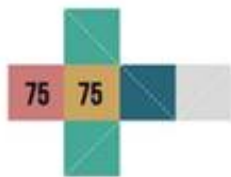
C



D

2. تصویر زیر یک جعبه باز شده را نشان می دهد. فرض کنید هر چیزی که روی سطح جعبه چاپ شده باشد از هر دو طرف قابل مشاهده است .

کدام یک از جعبه های نشان داده شده در زیر را می توان با تا کردن جعبه باز شده بدست آورد؟



- A
- B
- C
- D



A



B



C

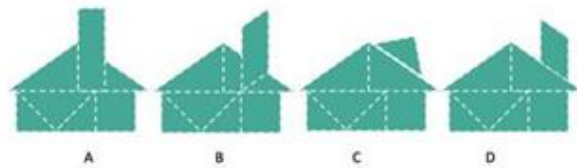


D

3. شکل های زیر را در نظر بگیرید. فرض کنید باید یک شکل بدون برش، تغییر اندازه یا همپوشانی ایجاد کنید. شما می توانید هر یک از قطعات را بچرخانید تا شکل خود را ایجاد کنید و همچنین باید از تمام قطعات استفاده کنید و هر قطعه فقط یک بار قابل استفاده است.

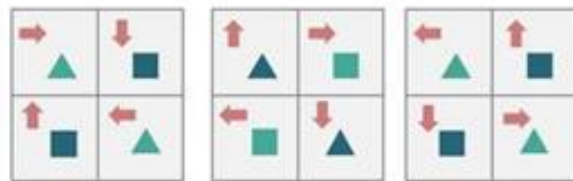


کدام یک از شکل های موجود A-D را می توانید ایجاد کنید؟

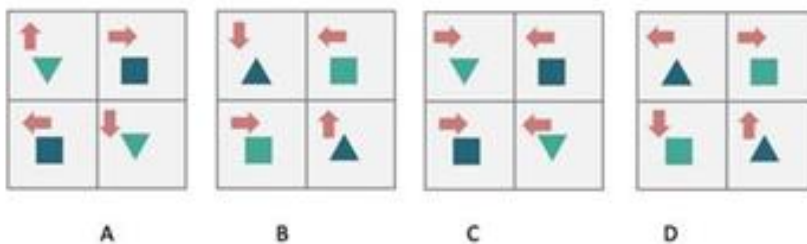


- A
- B
- C
- D

4. دنباله زیر را در نظر بگیرید.



کدام یک از شکل های زیر در ترتیب بعدی قرار می گیرد؟



- A
- B
- C
- D